


## GEOGRAFIA – MÓDULO III (triênio 2001-2003)

### QUESTÕES OBJETIVAS

01. Observe a charge abaixo:



Fonte: MOREIRA, J.C. e SENE, E. *Geografia para o ensino médio: Geografia Geral e do Brasil*. São Paulo: Scipione, 2002.

Por que o personagem assim definiu o FMI?

- a) Porque o FMI foi criado para aumentar a riqueza dos países desenvolvidos.
- b) Porque o FMI é um órgão do Fed (Banco de Finanças dos Estados Unidos).
- c) Porque o FMI é o mediador comercial entre os países do Norte e os do Sul.
- d) Porque o FMI cobra os empréstimos baseado em taxas de juros flutuantes.
- e) Porque o FMI é o fundo das Nações Unidas para erradicar a fome no mundo.

02. Marque a alternativa que apresenta **CORRETAMENTE** a grande diferença da atual divisão internacional do trabalho em relação às anteriores:

- a) A atual divisão internacional do trabalho não ocorre entre países, mas entre agentes econômicos.
- b) A atual divisão internacional do trabalho é regida pelos ideais do capitalismo comercial e industrial.
- c) A atual divisão internacional do trabalho privilegia o comércio entre as metrópoles e as colônias.
- d) A atual divisão internacional do trabalho reflete o predomínio do imperialismo político mundial.
- e) A atual divisão internacional do trabalho é denominada clássica, porque surgiu no século XVIII.

03. Leia a afirmativa abaixo:

Os refugiados são pessoas que normalmente estão fora do seu país por medo, por causa das perseguições ou da fome a que estão sujeitos em sua terra natal. Mas existem refugiados dentro de seus próprios países.

Marque a alternativa que apresenta **CORRETAMENTE** a identificação da área com a questão dos refugiados:

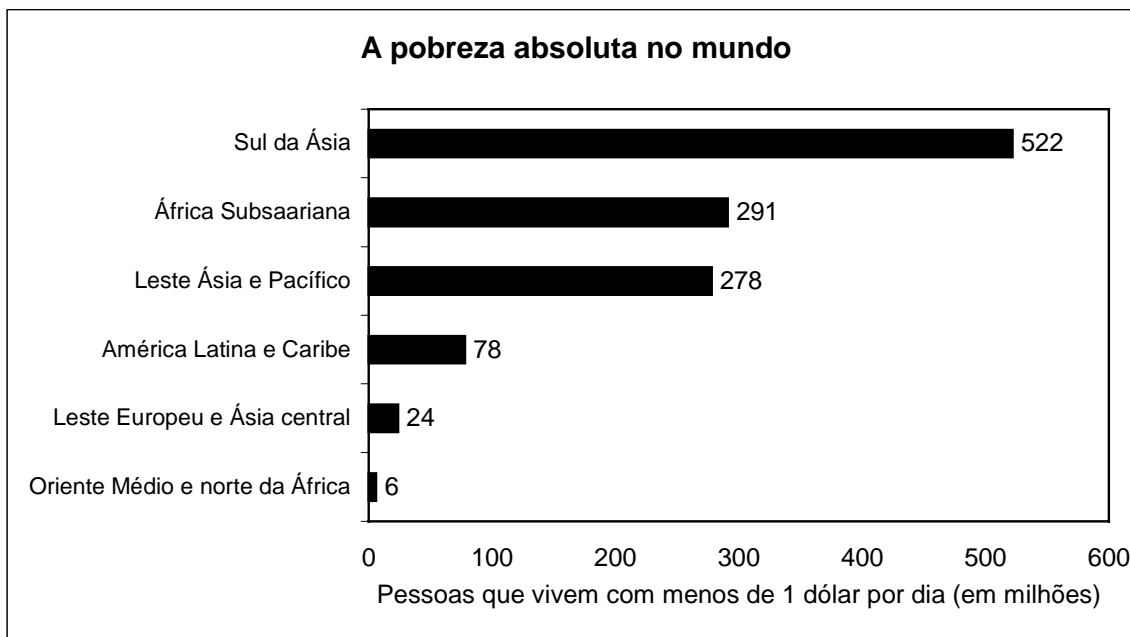
- a) Portugal, por ser o país mais estável da região, abriga maior população de refugiados da Europa Ocidental.
- b) A África, no início do século XXI, é o principal destino dos refugiados que saem dos países muçulmanos.
- c) Na Colômbia, milhões de pessoas deslocam-se no seu próprio país, para escaparem de conflitos entre vários grupos.
- d) Na África do Sul, depois de décadas de guerra civil, os refugiados começaram a voltar ao país, vindos da Nigéria.
- e) No Irã, o grande número de pessoas deslocadas internamente é vítima de luta entre o sul muçulmano e o norte cristão.

04. O historiador inglês Paul Kennedy, em uma análise prospectiva sobre o século XXI, procurou enfatizar os novos desafios do mundo no século que se inicia: “a nova revolução industrial; a biotecnologia e seus problemas (e promessas); a nova explosão demográfica; a globalização; o enfraquecimento do Estado nacional e os perigos para o meio ambiente.”

KENNEDY, Paul. *Preparando para o século XXI*. Rio de Janeiro: Campus, 1993.

- Marque a alternativa que apresenta **CORRETAMENTE** o papel dos “novos desafios” para os países pobres:
- A nova revolução industrial e os sistemas de gestão, através da robótica, tornam a força de trabalho qualificada e com altos salários, típica de países periféricos.
  - A biotecnologia irá diminuir radicalmente a necessidade dos solos agricultáveis, tornando insignificantes para o mercado mundial muitas economias subdesenvolvidas.
  - O enfraquecimento dos Estados nacionais torna o mundo mais estável, porque expande a educação e a tecnologia para todos os povos, não observando as fronteiras.
  - A globalização tornou os países do Norte e do Sul mais homogêneos, fornecendo uma idéia precisa de como o mundo se iguala sob o ponto de vista da geração de riquezas.
  - O modelo de industrialização dos países pobres é questionado pelos países ricos, porque preconiza a preservação dos recursos naturais, impedindo a exportação de minérios.

05. Observe o gráfico:



Fonte: BANCO MUNDIAL. Relatório sobre o desenvolvimento mundial 2000/2001; luta contra a pobreza.

Sabendo-se que o critério usado internacionalmente para medir quem vive na pobreza absoluta, ou em situação de miséria, é aquele em que se calculam quantas pessoas vivem com menos de 1 dólar por dia, marque a alternativa **CORRETA**:

- A distribuição da população que vive abaixo da linha de pobreza é simétrica e homogênea.
- No Oriente Médio e norte da África, a riqueza do petróleo elimina a existência da pobreza.
- As pessoas que estão na condição de pobreza absoluta moram exclusivamente em áreas rurais.
- Podemos encontrar excluídos tanto em países desenvolvidos, quanto em países subdesenvolvidos.
- O fundamentalismo religioso explica ser o sul da Ásia a área de maior contingente de miseráveis.

06. Leia o texto abaixo:

“Por causa da importância da ciência e da tecnologia, hoje as novas regiões industriais, aquelas de tecnologia de ponta ou de vanguarda, não se localizam mais nas áreas onde existem matérias-primas (carvão, minérios), como ocorria nas velhas regiões industriais. (...) Algumas vezes, existe uma coincidência entre as velhas e as novas regiões industriais, ou uma continuação delas.”

VESENTINI, J. W. *Geografia*. São Paulo: Ática, 2003. Ensino médio. Vol. Único.

A partir da interpretação do texto acima, podemos afirmar que:

- o texto apresenta as características da Primeira Revolução Industrial, porque o fator de localização predominante é a tecnologia.
- as novas regiões industriais descritas no texto ocorrem exclusivamente em países industrializados, que não possuem matéria-prima.
- a forma de industrialização descrita no texto tem por base um maior desenvolvimento das indústrias pesadas, menos poluidoras.
- o texto apresenta a descrição da industrialização planejada, que é implantada para ampliar os estabelecimentos industriais.
- o texto mostra que os tecnopólos coincidem com algumas cidades globais, ou estão próximos e fortemente conectados a essas cidades.

07. Leia a afirmativa abaixo:

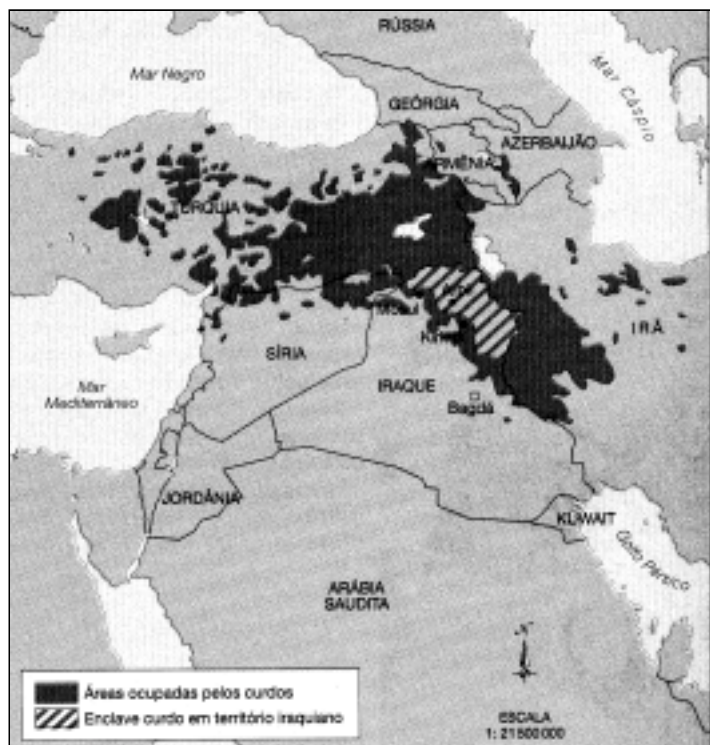
“Um oficial da força aérea norte-americana afirmou que, na Guerra do Golfo, de 1991, uma onça de silício num computador pode ter tido maior efeito que uma tonelada de urânio.”

TOFFER, Alvim e Heide. *Guerra e antiguerra*. Rio de Janeiro: Record, 1994.

Analisando-se a afirmativa acima e sabendo-se que uma onça equivale a 28g, aproximadamente, é **CORRETO** afirmar que:

- o predomínio da força aérea norte-americana ocorreu, porque ela utiliza o silício como combustível.
- a pesquisa e a produção bélicas deixaram de lado a ênfase nos meios de destruição em massa.
- os países do Golfo não produzem armas nucleares, porque não possuem reservas de urânio.
- por emitir maior radiação, o silício substituiu o urânio, tornando as armas mais eficientes e limpas.
- no século XXI, os conflitos bélicos destroem mais o ambiente, porque privilegiam a tecnologia.

08. Leia o mapa abaixo:



Com relação aos conceitos básicos de Geografia Política, podemos afirmar que:

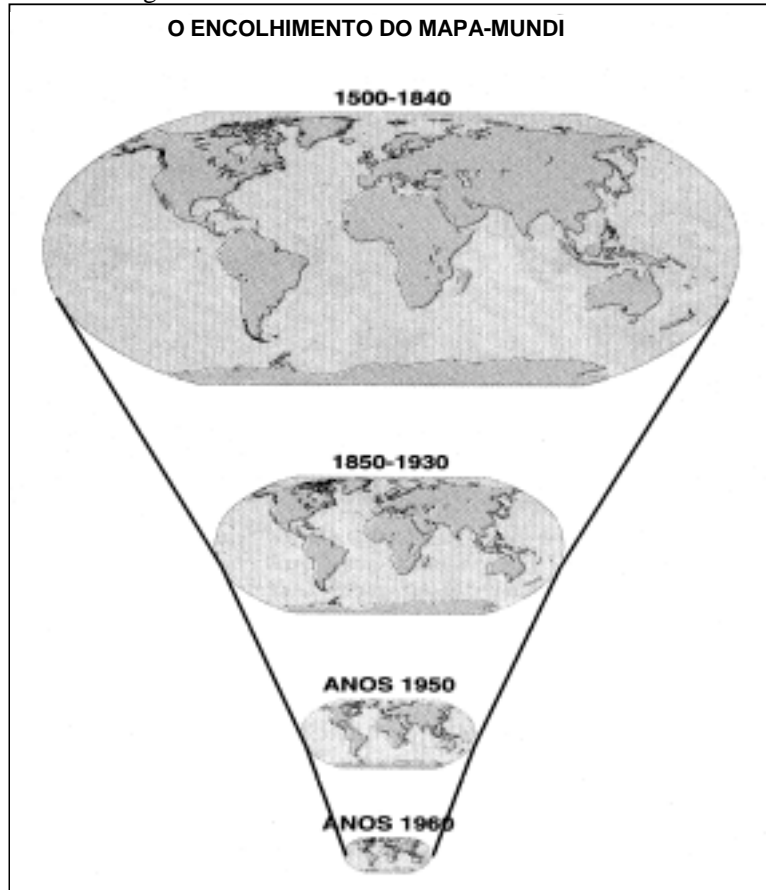
- os limites do povo curdo coincidem com as fronteiras estatais.
- o enclave curdo é um Estado dentro do território iraquiano.
- a nação curda não existe, porque ela não tem um país.
- o território dos curdos é limitado por fronteiras internacionais.
- o povo curdo luta pela criação do Curdistão – o Estado curdo.

# QUESTÕES DISCURSIVAS

(cada questão vale até quatro pontos)

## Questão 01

Observe a figura abaixo.



Responda:

a) Que fator explica o “encolhimento” do mapa-mundi?

---

---

---

---

---

---

---

Fonte: HARVEY, D. *Condição pós-moderna: uma pesquisa sobre as origens da mudança cultural*. 2.ed. São Paulo: Loyola, 1992.

Leia o trecho da música *Parabolicamará*, de Gilberto Gil:

“ Antes mundo era pequeno  
Porque Terra era grande  
Hoje mundo é muito grande  
Porque Terra é pequena.  
Antes longe era distante.  
Perto, só quando dava  
Quando muito, ali defronte,  
E o horizonte acabava.”

Fonte: [www.gilbertogil.com.br/letras/paraboli](http://www.gilbertogil.com.br/letras/paraboli)

b) O mesmo fator que você identificou na letra **a)** também justifica as afirmações contidas na letra da música? Explique sua resposta.

---

---

---

---

---

---

---

---

---

---

## Questão 02

Leia o texto de um *outdoor* exibido em Frankfurt, Alemanha:

***“Teu Cristo é judeu, teu carro é japonês, tua pizza italiana, tua democracia grega, teu café brasileiro, tuas férias são turcas, teus números árabes, teu alfabeto é latino.  
E o teu vizinho é somente estrangeiro?”***

- a) Em qual país europeu esse *outdoor* também poderia ser exibido?

---

- b) Explique por que as influências multiculturais na Alemanha não contribuíram para atenuar a força crescente de tendências nacionalistas violentas.

---

---

---

---

---

---

---

---

---

---

---